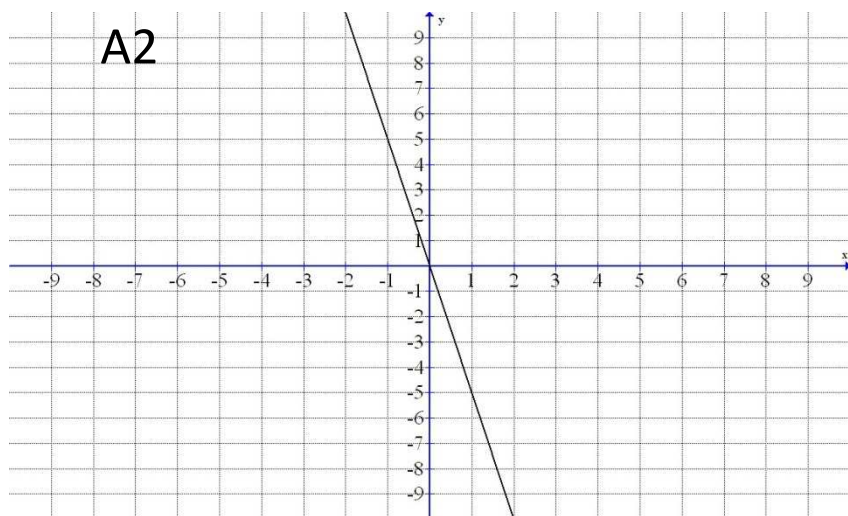
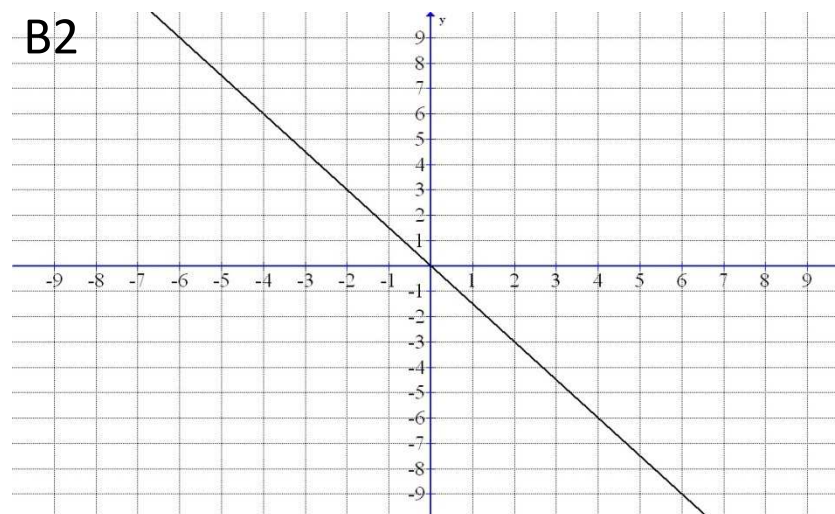


Na obrázku jsou grafy lineárních funkcí: $y=2x+1$ $y=3x-2$ $y=4x+5$ $y=-2x+2$
 Přiřaď každé z těchto funkcí písmeno jejího grafu.

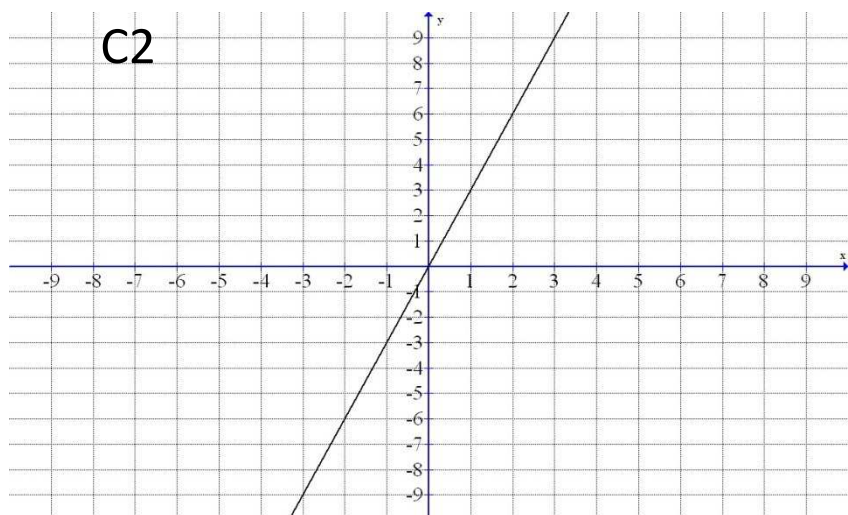
A2



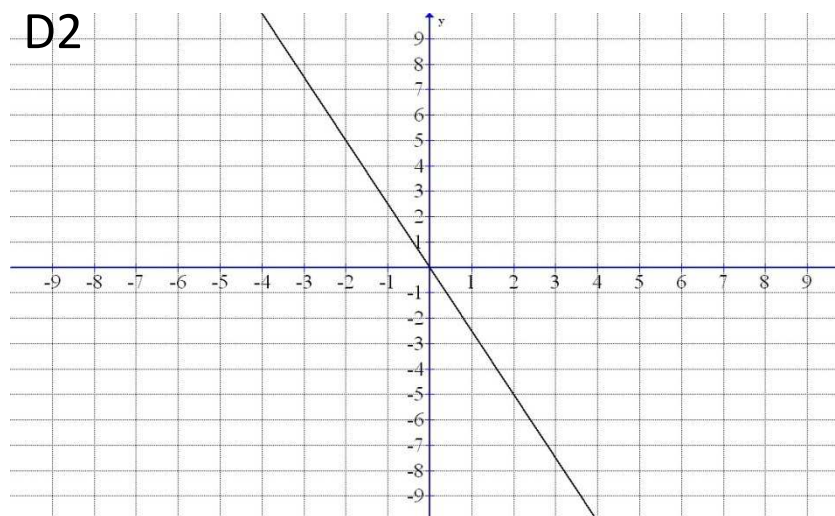
B2



C2



D2



Na obrázku jsou grafy přímých úměrností:

$y=3x$

$y=-2,5x$

$y=-5x$

$y=-1,5x$

Přiřaď každé z těchto funkcí písmeno jejího grafu.

ŘEŠENÍ

Na obrázku jsou grafy lineárních funkcí:

$y=2x+1(D1)$

$y=3x-2(A1)$

$y=4x+5(C1)$

$y=-2x+2(B1)$

Přiřaď každé z těchto funkcí písmeno jejího grafu.

Na obrázku jsou grafy přímých úměrností:

$y=3x(C2)$

$y=-2,5x(D2)$

$y=-5x(A2)$

$y=-1,5x(B2)$

Přiřaď každé z těchto funkcí písmeno jejího grafu.