

Malované počítání

Tvoř slovní úlohy a zapisuj k nim příklady.



A



□	□	□	□	□
---	---	---	---	---



A




□	□	□	□	□
---	---	---	---	---



A



□	□	□	□	□
---	---	---	---	---



A



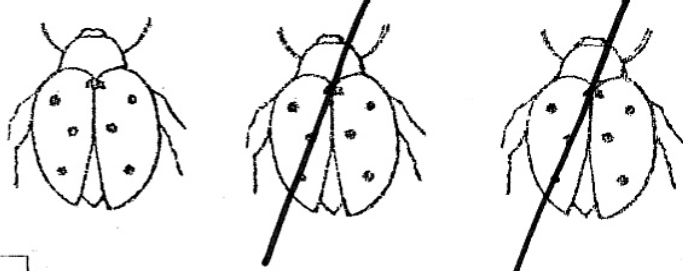



□	□	□	□	□
---	---	---	---	---

Zdroj obrázků: sada razítek pro 1. ročník

Vytvořila: Mgr. Marcela Hušťavová

Malované počítání

Tvoř slovní úlohy a zapisuj k nim příklady.

 <input type="checkbox"/> <input type="checkbox"/> <input type="checkbox"/> <input type="checkbox"/> <input type="checkbox"/>
 <input type="checkbox"/> <input type="checkbox"/> <input type="checkbox"/> <input type="checkbox"/> <input type="checkbox"/>
 <input type="checkbox"/> <input type="checkbox"/> <input type="checkbox"/> <input type="checkbox"/> <input type="checkbox"/>
 <input type="checkbox"/> <input type="checkbox"/> <input type="checkbox"/> <input type="checkbox"/> <input type="checkbox"/>

Zdroj obrázků: sada razítek pro 1. ročník

Vytvořila: Mgr. Marcela Hušťavová

Malované počítání

Znáznorn příklady a vypočítej je.

$$\boxed{2} \quad \boxed{+} \quad \boxed{1} \quad \boxed{=} \quad \boxed{}$$

$$\boxed{1} \quad \boxed{+} \quad \boxed{1} \quad \boxed{=} \quad \boxed{}$$

$$\boxed{1} \quad \boxed{+} \quad \boxed{2} \quad \boxed{=} \quad \boxed{}$$

$$\boxed{2} \quad \boxed{+} \quad \boxed{1} \quad \boxed{=} \quad \boxed{}$$

Malované počítání

Znáznorn příklady a vypočítej je

$$\boxed{3} \quad \boxed{-} \quad \boxed{1} \quad \boxed{=} \quad \boxed{}$$

$$\boxed{2} \quad \boxed{-} \quad \boxed{2} \quad \boxed{=} \quad \boxed{}$$

$$\boxed{3} \quad \boxed{-} \quad \boxed{1} \quad \boxed{=} \quad \boxed{}$$

$$\boxed{3} \quad \boxed{+} \quad \boxed{1} \quad \boxed{=} \quad \boxed{}$$



Zdroj obrázků: sada razítek pro 1. ročník

Vytvořila: Mgr. Marcela Hušťavová