

Malované počítání

Tvoř slovní úlohy a zapisuj k nim příklady.



A



□	□	□	□	□
---	---	---	---	---



A



□	□	□	□	□
---	---	---	---	---



A



□	□	□	□	□
---	---	---	---	---







A



□	□	□	□	□
---	---	---	---	---

Malované počítání

Tvoř slovní úlohy a zapisuj k nim příklady.


<input type="text"/> <input type="text"/> <input type="text"/> <input type="text"/> <input type="text"/>

<input type="text"/> <input type="text"/> <input type="text"/> <input type="text"/> <input type="text"/>

<input type="text"/> <input type="text"/> <input type="text"/> <input type="text"/> <input type="text"/>

<input type="text"/> <input type="text"/> <input type="text"/> <input type="text"/> <input type="text"/>

Malované počítání

Znázorni příklady a vypočítej je.

$$\boxed{3} \quad \boxed{+} \quad \boxed{1} \quad \boxed{=} \quad \boxed{}$$

$$\boxed{2} \quad \boxed{+} \quad \boxed{2} \quad \boxed{=} \quad \boxed{}$$

$$\boxed{2} \quad \boxed{+} \quad \boxed{1} \quad \boxed{=} \quad \boxed{}$$

$$\boxed{1} \quad \boxed{+} \quad \boxed{3} \quad \boxed{=} \quad \boxed{}$$

Malované počítání

Znázorni příklady a vypočítej je.

$$\boxed{4} \quad \boxed{-} \quad \boxed{1} \quad \boxed{=} \quad \boxed{}$$

$$\boxed{4} \quad \boxed{-} \quad \boxed{3} \quad \boxed{=} \quad \boxed{}$$

$$\boxed{3} \quad \boxed{-} \quad \boxed{2} \quad \boxed{=} \quad \boxed{}$$

$$\boxed{4} \quad \boxed{-} \quad \boxed{2} \quad \boxed{=} \quad \boxed{}$$