

















# Malované počítání

Tvoř slovní úlohy a zapisuj k nim příklady.

|  |   |  |
|--|---|--|
|                         |   |   |
| <input type="text"/> <input type="text"/> <input type="text"/> <input type="text"/> <input type="text"/> |   |  |
|                         |    |    |
| <input type="text"/> <input type="text"/> <input type="text"/> <input type="text"/> <input type="text"/> |   |  |
|                       |  |  |
| <input type="text"/> <input type="text"/> <input type="text"/> <input type="text"/> <input type="text"/> |   |  |
|                       |  |  |
| <input type="text"/> <input type="text"/> <input type="text"/> <input type="text"/> <input type="text"/> |   |  |

# Malované počítání

Tvoř slovní úlohy a zapisuj k nim příklady.

|  |                      |                      |                      |                      |                      |
|--|----------------------|----------------------|----------------------|----------------------|----------------------|
|    | <input type="text"/> | <input type="text"/> | <input type="text"/> | <input type="text"/> | <input type="text"/> |
|   | <input type="text"/> | <input type="text"/> | <input type="text"/> | <input type="text"/> | <input type="text"/> |
|  | <input type="text"/> | <input type="text"/> | <input type="text"/> | <input type="text"/> | <input type="text"/> |
|  | <input type="text"/> | <input type="text"/> | <input type="text"/> | <input type="text"/> | <input type="text"/> |

# Malované počítání

Znáznorn příklady a vypočítej je.

$$\boxed{3} \quad \boxed{+} \quad \boxed{2} \quad \boxed{=} \quad \boxed{\phantom{00}}$$

$$\boxed{1} \quad \boxed{+} \quad \boxed{4} \quad \boxed{=} \quad \boxed{\phantom{00}}$$

$$\boxed{2} \quad \boxed{+} \quad \boxed{3} \quad \boxed{=} \quad \boxed{\phantom{00}}$$

$$\boxed{4} \quad \boxed{+} \quad \boxed{1} \quad \boxed{=} \quad \boxed{\phantom{00}}$$

# Malované počítání

Znáznorn příklady a vypočítej je.

$$\boxed{5} \quad \boxed{-} \quad \boxed{3} \quad \boxed{=} \quad \boxed{\phantom{00}}$$

$$\boxed{5} \quad \boxed{-} \quad \boxed{1} \quad \boxed{=} \quad \boxed{\phantom{00}}$$

$$\boxed{5} \quad \boxed{-} \quad \boxed{4} \quad \boxed{=} \quad \boxed{\phantom{00}}$$

$$\boxed{5} \quad \boxed{-} \quad \boxed{2} \quad \boxed{=} \quad \boxed{\phantom{00}}$$



